



LE TEMPS – LES DURÉES

A) Dessine les aiguilles et complète l'heure d'avant-midi OU d'après-midi.




5 h 35

ou




.....

ou 14 h 55



11 h 32


ou



.....


ou 0 h 14

B) Invente les heures et complète les horloges.




.....

ou




.....

ou



.....

ou



.....

ou

C) Transpose. (Tu peux utiliser la ligne du dessous pour écrire un calcul ou autre chose.)

3 h. = ... min.	30 min. = ... h.	240 sec. = ... min.	2 j. = ... h.
1/3 h. =	1/2 j. =	3/4 min. =	1/5 j. = ... h.

D) Calcule les intervalles.

de 5 h 50 à 6h →	de 14 h 40 à 15 h 18 →
de 13 h 35 à 14 h →	de 10 h 59 à 12 h 58 →
de 8 h 20 à 9 h →	de 7 h 32 à 11 h 40 →
de 16 h 13 à 17 h →	de 5 h 15 à 17 h 12 →
de 12 h 45 à 13 h 15 →	de 6 h 26 à → 2 h 56 min.