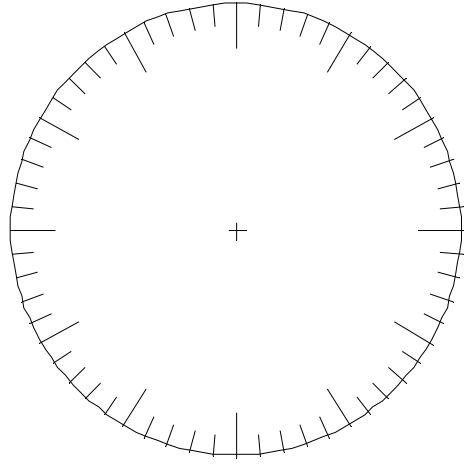



$$\frac{1}{2}$$


Situe la fraction sur la droite graduée.



Colorie la fraction dans chaque dessin.



Colorie plus ou moins la fraction dans cette bouteille d'un litre.



Dessine la réponse en pièces ou billets

$$\frac{1}{2} \text{ €} =$$

Transforme dans une unité de mesure plus petite.

$$\frac{1}{2} \text{ L} = \quad \frac{1}{2} \text{ kg} = \quad \frac{1}{2} \text{ h} = \quad \frac{1}{2} = \quad , \quad = \quad \dots \%$$